










# Toplama ve Çıkarmada Eşitlik

7 → 	9 → 	4 → 	6 → 	14 → 
8 → 	10 → 	5 → 	12 → 	



## Toplama ve Çıkarmada Eşitlik

İşlemlerin eşit olması için noktalı yerlere uygun sayılar yazalım.

$6 + 3 = 3 + \dots$

$6 + 4 = 6 + \dots$

$4 + \dots = 5 + 4$

$7 + \dots = 5 + 7$

$\dots + 3 = 3 + 6$

$\dots + 4 = 5 + 4$

$1 + 6 = \dots + 6$

$1 + 6 = \dots + 6$

$11 + 3 = 3 + \dots$

$3 + 9 = 3 + \dots$

$6 + \dots = 7 + 6$

$5 + \dots = 5 + 6$

$\dots + 3 = 8 + 6$

$\dots + 7 = 3 + 7$

$2 + 9 = \dots + 2$

$2 + 1 = \dots + 1$

$6 + 5 = 6 + \dots$

$5 + 6 = \dots + 6$

$8 + \dots = 6 + 8$

$4 + 3 = 4 + \dots$

$\dots + 2 = 11 + 2$

$6 + \dots = 6 + 6$