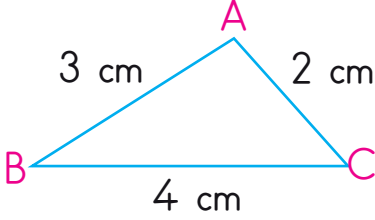
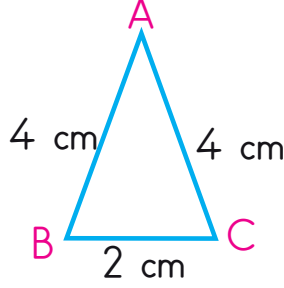


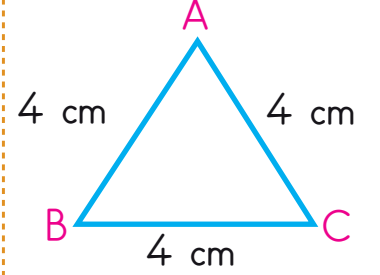
2- ÜÇGENLERİ KENAR ÖZELLİKLERİNE GÖRE SINIFLANDIRMA



Kenar uzunlukları farklı olan üçgenlere **çesitkenar** üçgen denir.

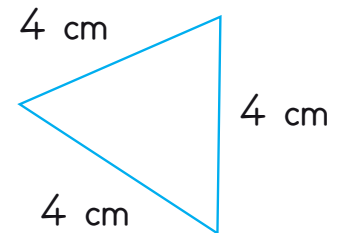
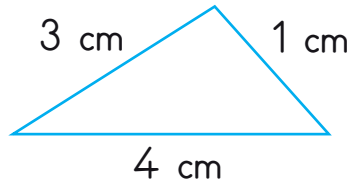
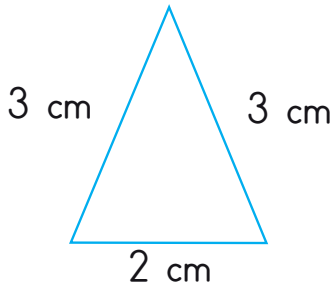
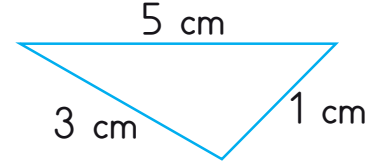
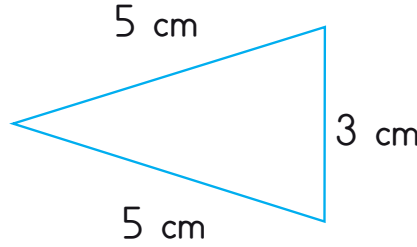
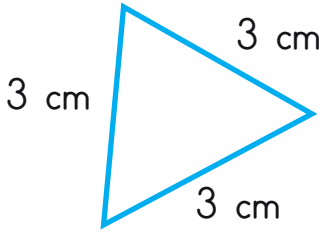


2 kenar uzunlukları eşit olan üçgenlere **ikizkenar** üçgen denir.



3 kenar uzunlukları eşit olan üçgenlere **eşkenar** üçgen denir.

Aşağıdaki üçgenlerin çesitlerini kenar uzunluklarına göre yazalım.



2- ÜÇGENLERİ KENAR ÖZELLİKLERİNE GÖRE SINIFLANDIRMA

Kenar uzunlukları verilen üçgenlerin türlerini yazınız.

1. kenar	2. kenar	3. kenar	Üçgenin Türü
2 cm	4 cm	3 cm
2 cm	2 cm	2 cm
3 cm	1 cm	7 cm
4 cm	4 cm	3cm
1 cm	2 cm	2 cm
9 cm	2 cm	6 cm
4 cm	4 cm	4 cm
6 cm	8 cm	5 cm
3 cm	3 cm	3cm

Aşağıya cetvel kullanarak üçgenler çizelim.

çeşitkenar

ikizkenar

eşkenar