

Adım:.....  
Soyadım:.....

Tarih:.....

## 2. SINIF 6. HAFTA 1. TEST

1. Aşağıdaki toplama işlemlerinden hangisi doğrudur?

A) 
$$\begin{array}{r} 47 \\ + 26 \\ \hline 73 \end{array}$$

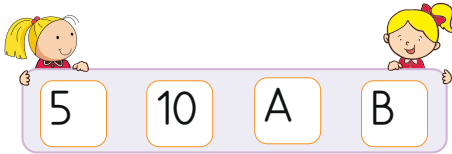
B) 
$$\begin{array}{r} 34 \\ + 18 \\ \hline 45 \end{array}$$

C) 
$$\begin{array}{r} 72 \\ + 19 \\ \hline 81 \end{array}$$

2 onluk 3 birlik  
+ 5 onluk 8 birlik

2. Yukarıdaki toplama işleminin sonucu aşağıdakilerden hangisidir?

A) 71      B) 81      C) 61



3. Yukarıdaki görselde 5'er ritmik sayma yapılmıştır. Buna göre (A+B) işleminin sonucu aşağıdakilerden hangisidir?

A) 25      B) 30      C) 35

4. Aşağıdaki toplama işlemlerinden hangisinin sonucu en küçüktür?

A) 
$$\begin{array}{r} 35 \\ + 26 \\ \hline \end{array}$$

B) 
$$\begin{array}{r} 21 \\ + 18 \\ \hline \end{array}$$

C) 
$$\begin{array}{r} 65 \\ + 19 \\ \hline \end{array}$$

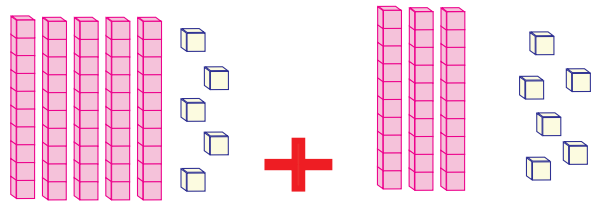
5. Aşağıdaki toplama işlemlerinden hangisinin sonucu en büyüktür?

A) 
$$\begin{array}{r} 73 \\ + 26 \\ \hline \end{array}$$

B) 
$$\begin{array}{r} 84 \\ + 14 \\ \hline \end{array}$$

C) 
$$\begin{array}{r} 65 \\ + 29 \\ \hline \end{array}$$

6.




Yukarıda modelle gösterilen toplama işleminin sonucu aşağıdakilerden hangisidir?

A) 90      B) 91      C) 61

Adım:.....  
Soyadım:.....

Tarih:.....


## 2. SINIF 6. HAFTA 2. TEST

 1. Aşağıdaki toplama işlemlerinden hangisi doğrudur?

A)  $24 + 38 = 52$

B)  $71 + 19 = 80$


C)  $37 + 46 = 83$

 2. Aşağıdaki toplama işlemlerinden hangisinin sonucu en büyüktür?


A)  $14 + 28 =$

B)  $31 + 49 =$

C)  $74 + 16 =$

 3. 27 sayısının 15 fazlası kaçtır?


A) 51      B) 52      C) 53

 4. Aşağıdaki toplama işlemlerinden hangisinin sonucu en küçüktür?

A)  $65 + 22 =$


B)  $56 + 19 =$

C)  $54 + 36 =$


 5. 27 sayısının 15 fazlası kaçtır?

A) 51      B) 52      C) 53


3	5
+	2
<hr/>	
5	8

 6. Yukarıdaki toplama işleminde A yerine hangi rakam yazılmalıdır?

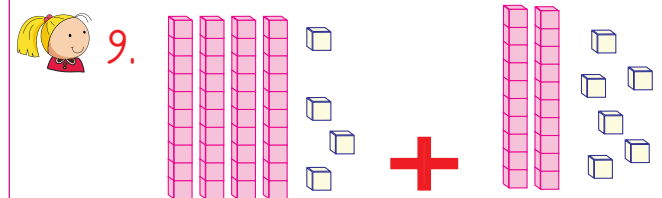
A) 3      B) 4      C) 5

 7. Sınıfımızda 9 erkek 10 kız öğrenci vardır. Buna göre sınıfımızda toplam kaç öğrenci vardır?

A) 16      B) 19      C) 22

 8. 2 onluk 7 birlikten oluşan sayının 38 fazlası kaçtır?

A) 55      B) 65      C) 75



Yukarıda modelle gösterilen toplama işleminin sonucu aşağıdakilerden hangisidir?

A) 60      B) 70      C) 80