

Adım:.....
Soyadım:.....

Tarih:.....

2.SINIF 5. HAFTA TESTİ


1. Aşağıdaki sözcük çiftlerinden hangisi eş anlam değildir?
A) yıl sene B) küçük büyük
C) kalp yürek


2. Alfabemizin 2. harfi'dir.
Alfabemizin son harfi'dir.

Yukarıdaki boşluklara sırasıyla hangileri yazılmalıdır?

- A) a - z B) k - l C) b - z

3.  Ahmetler çok varlıklı.

 Ördek suda yüzdü.

 Kuşlar yemi yedi mi?




Yukarıdaki hayvanlardan hangisinin söylediği cümlede eş anlamı olan sözcük vardır?

- A)  B)  C) 

4. "Ayşe dün okula gitti." cümlesinde aşağıdaki sorularda hangisinin cevabı yoktur?

- A) Ne zaman? B) Kim?
C) Nasıl?

5. Aşağıdaki çocuklardan hangisi satır sonunda kelimeyi doğru ayırmıştır?

 Kübra bey- az	 Azra pa- zar	 Hilal sin- ema
--	---	---

- A) Kübra B) Azra C) Hilal

6. Aşağıdaki çocuklardan hangisi eş anlamlı kelimeler yazmıştır?

 Ömer siyah beyaz	 Ajda küçük büyük	 Tuğba zengin varlıklı
---	---	--

- A) Ömer B) Ajda C) Tuğba

Adım:.....
Soyadım:.....

Tarih:.....

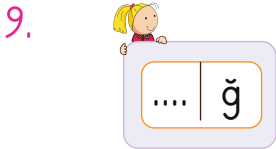
7. "Umut sürekli ders çalışır." cümlesinde altı çizili kelimenin eş anlamlısı aşağıdakilerden hangisidir?

A) devamlı B) bazen C) sabah



Yukarıdaki kutuların başına aşağıdaki sesli harflerden hangisi gelirse anlamlı kelime oluşmaz?

A) e B) ı C) a



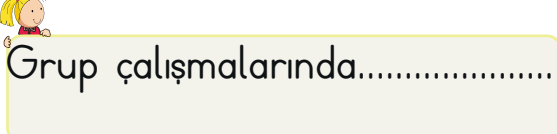
Yukarıdaki kutucuğun başına iki harfli anlamlı kelime oluşturmak için aşağıdaki harflerden hangisi gelmelidir?

A) a B) ü C) ö

10. Aşağıdaki cümlede boş bırakılan yere hangi kelime gelmeli?

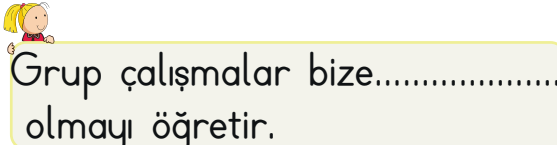
Grup çalışmalarında.....
yapmalıyız.

A) iş bölümü B) sorumluluk
C) yeteneklerimizi

11. 
Grup çalışmalarında.....

Yukarıdaki cümleyi tamamlamak için aşağıdaki şıklardan hangisi gelmelidir?

A) her üyeye görev dağıtılmalıdır.
B) bir kişinin sözü geçmelidir.
C) karar verebilmek için kavga ederiz.

12. 
Grup çalışmalar bize.....
olmayı öğretir.

Yukarıdaki boşluğu aşağıdaki kelimelerden hangisiyle tamamlamak uygun olmaz?

A) saygılı B) planlı C) bencil

Adım:.....
Soyadım:.....

Tarih:.....

13.



$$32 - 54$$

ifadesinin okunuşu hangi seçenekte doğru verilmiştir?

- A) Otuz iki eşittir elli dört.
B) Otuz iki büyüktür elli dörtten
C) Otuz iki küçüktür elli dörtten

14. Aşağıdaki sayılardan hangisi en büyüktür?

- A) 29 B) 45 C) 35

15. Betül Şükrü Gülbahar



Yukarıdaki çocuklardan hangisinin tuttuğu sayı farklı onluğa yuvarlanır?

- A) Şükrü B) Gülbahar
C) Betül

16.



Yukarıdaki örüntülerde kurallara göre yazılacak sayılar aşağıdakilerden hangisidir?

- A) 40-10 B) 40-14
C) 35-16


17.



Yukarıda verilen sayıların büyükten küçüğe doğru sıralanışı hangi seçenekte verilmiştir?

- A) 50-46-23-37-12
B) 50-46-37-23-12
C) 35-16-12-50-23

18.



Aşağıdakilerden hangisi yukarıda modelle gösterilen sayıdan büyüktür?

- A) 69 B) 85 C) 70

Adım:.....
Soyadım:.....

Tarih:.....

19.



48.....54

Yukarıdaki boşluğa aşağıdaki ifadelerden hangisi yazılmalıdır?

- A) eşittir
- B) büyüktür
- C) küçüktür

20.

93 64 51 39

Yukarıdaki sayılar büyükten küçüğe doğru sıralanmıştır. Noktalı yere aşağıdaki sayılardan hangisi yazılabilir?

- A) 50
- B) 58
- C) 72

21. Aşağıdaki sayılardan hangisi en küçüktür?

- A) Atmış iki
- B) Seksen
- C)Kırk yedi

22. Aşağıdaki sayılardan hangisi en küçüktür?

- A) İki onluk üç birlik
- B) Sekiz onluk yedi birlik
- C) Bir onluk dört birlik

23. 27 31 13 34 3

Yukarıda verilen sayılardan en büyük ve en küçük sayı aşağıdakilerden hangisidir?

- A) 34-3
- B) 27-13
- C) 13-3

24. A 41 B

Yukarıdaki sıralamada sayılar küçükten büyüğe doğru yazılanmıştır. Buna göre A ve B yerine aşağıdakilerden hangisi yazılmalıdır?

- A) A = 46 B = 72
- B) A = 32 B = 56
- C) A = 38 B = 40