

Tarih:




Adım:

Soyadım:

1. Aşağıdaki şıklardan hangisinde zıt anlamlı kelimeler yazılıdır?

- A) gece gündüz B) siyah kara C) okul mektep

2.



Yukarıdaki çocuklardan hangileri zıt anlamlı kelimelerin kartını tutuyor?

- A) Müge, Ayla B) Ayla, Yelda
C) Müge, Yelda

3.



Yukarıdaki çocuklardan hangisi zıt anlamlı kelimelerin kartını tutuyor?

- A) Müge B) Ayla C) Yelda

4. Aşağıdaki kelimelerden hangisi satır sonunda doğru ayrılmıştır?

- A) si-
lgi

- B) a-
raba

- C) çan-
ta


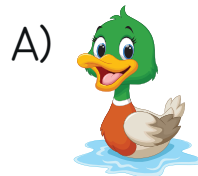
5.




Yukarıdaki kelimeler alfabetik sıralandığında en sonda hangi sembolle gösterilen kelime yer alır?

- A) ★ B) ▲ C) ●


6. Aşağıdaki görsellerden hangisinin adı ilk heceden satır sonuna doğru bölünebilir?



7. 
18


On sekizden başlayarak geriye doğru ikişer sayma yaparken 2. sırada hangi sayıyı söyleriz?

- A) 16 B) 14 C) 12

8. 
25


25'ten başlayarak geriye doğru beşer ritmik sayma yaparken 4. aşağıdakilerden hangisidir?

- A) 15 B) 5 C) 10

9. 
27

27'den başlayıp ileri doğru üçer ritmik sayarken 3. sırada hangi sayıyı söyleriz?

- A) 30 B) 36 C) 33

10. 
16

16'dan başlayıp ileriye doğru dörder ritmik sayma yaparken 3. sırada hangi sayıyı söyleriz?

- A) 24 B) 28 C) 32

11. 
24
Ahmet 
22
Tuğçe 
21
Zeynep

27'den başlayarak geriye doğru üçer sayma yaparken 3. sıradaki sayıyı hangi çocuk doğru söylemiştir?

- A) Ahmet B) Tuğçe C) Zeynep

12. Kaynakları bilinçli kullanan bir öğrenci hangi davranışı yapar?

- A) Sıra, masa, pano gibi sınıf eşyalarını karalar.
B) Lavabo ve tuvaletleri temiz kullanır.
C) Gereksiz yere suyu açar.

13. Tasarruf nedir?

- A) Kaynakları bilinçli kullanmaktır.
B) Gereksiz harcama yapmaktır.
C) Muslukları açık bırakmaktır.

14. Okulumuzun yerini tarif ederken hangi yapıdan söz etmeyiz?

- A) kümes B) eczane C) market